

МИНИСТЕРСТВО ПРОСВЕЩЕНИЯ РЕСПУБЛИКИ КАЗАХСТАН
АО «НАЦИОНАЛЬНЫЙ ЦЕНТР ПОВЫШЕНИЯ КВАЛИФИКАЦИИ «ӨРЛЕУ»

ӨRLEU

НАЦИОНАЛЬНЫЙ ЦЕНТР
ПОВЫШЕНИЯ КВАЛИФИКАЦИИ

**СБОРНИК ТЕСТОВ
ПО ГЕОГРАФИИ**

АСТАНА
2025

СБОРНИК ТЕСТОВ ПО ГЕОГРАФИИ

В сборнике представлены задания для проверки и углубления знаний по географии, которые предполагают выбор одного правильного ответа из четырёх предложенных вариантов и охватывают все основные разделы предмета.

Для проверки решений в конце сборника приведены ответы. Сборник рекомендуется использовать для самостоятельной работы, а также в качестве дополнения к урокам.

ТЕМЫ:

- Методы географических исследований
- Картография и географические базы данных
- Физическая география (Литосфера)
- Физическая география (Атмосфера)
- Физическая география (Гидросфера)
- Физическая география (Биосфера)
- Экономическая география
- Социальная география
- Страноведение с основами политической географии

ТЕСТ

Методы географических исследований

- Источники географических данных;
- Применение графических методов в географии

1. Определите метод, позволяющий прогнозировать зависимости между доходами и расходами в динамических системах путем расчетов.

- A) числовой
- B) баланс
- C) анализ
- D) сравнение

2. Определите современный метод аэро-космической съемки.

- A) исторический метод
- B) статистический метод
- C) картографический метод
- D) метод дистанционного наблюдения

3. Используя рисунок 1, определите способ картографического изображения.

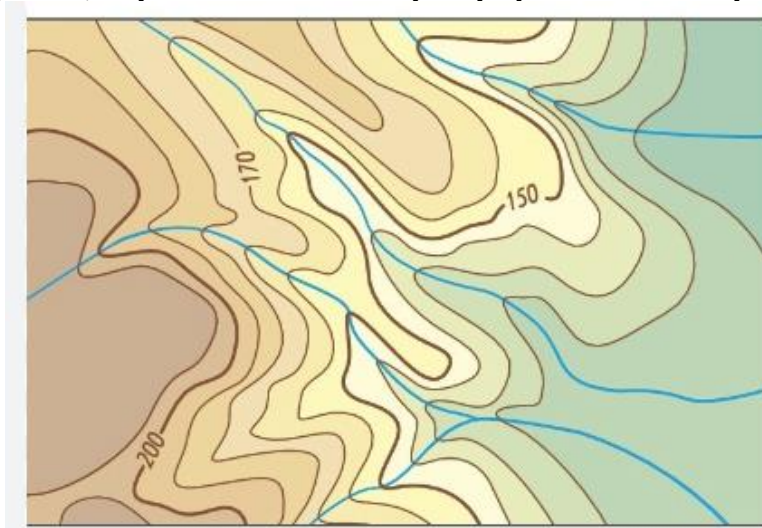


Рисунок 1

- A) ложные изолиний
- B) изолиний
- C) качественный фон
- D) количественный фон

4. Укажите науку, изучающую структуру и закономерности развития географической оболочки.

- A) Гидрология
- B) Биогеография
- C) Геоморфология
- D) Общая физическая география

5. Укажите метод, используемый для определения высоты местности над уровнем моря.

- A) Гипсометрический метод
- B) Метод линий

- C) Метод точек
- D) Метод профилей

6. Используя рисунок 2, определите метод картографического изображения.

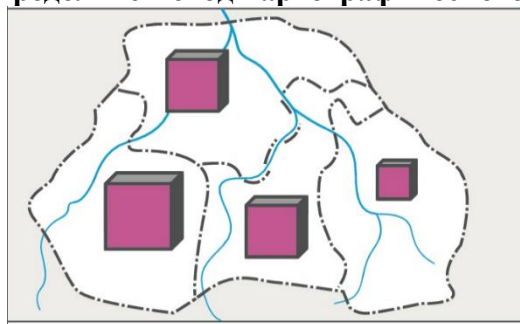


Рисунок 2

- A) картограмма
- B) картодиаграмма
- C) картометрия
- D) точечная картограмма

7. Определите способ изучения изменений ландшафта с течением времени.

- A) Метод дистанционного зондирования
- B) Метод полевых исследований
- C) Метод лабораторных анализов
- D) Метод статистического анализа

8. Используя карту, представленную на рисунке 3 определите вид картографического изображения.

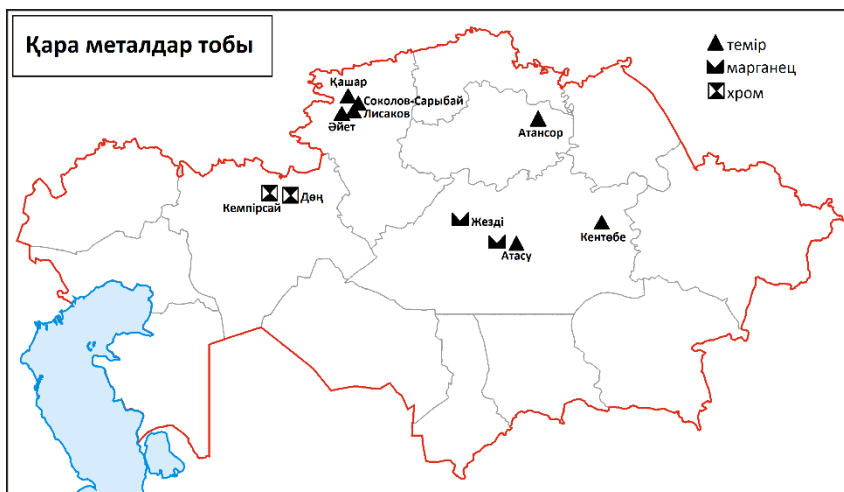


Рисунок 3

- A) цифровой фон
- B) качественный фон
- C) метод ареалов
- D) метод знаков

9. Определите вариант, отражающий структуру географических объектов в вертикальном сечении по заданному направлению.

- A) Схема
- B) Профиль
- C) Диаграмма
- D) График

10. Определите, к какому типу метода географического исследования относится метод экспедиционного исследования.

- A) Полевой
- B) Теоретический
- C) Моделирование
- D) Картографические

11. Какой графический метод наиболее эффективно используется для визуализации пространственного распределения климатических данных в географии?

- A) Гистограмма
- B) Картограмма
- C) Линейный график
- D) Денгелек диаграмма

12. Определить группу представления геометрических, физических, динамических характеристик объекта.

- A) логическое моделирование
- B) альтернативное моделирование
- C) символьное моделирование
- D) предметное моделирование

13. Определите метод получения экспертных данных на рисунке 4.

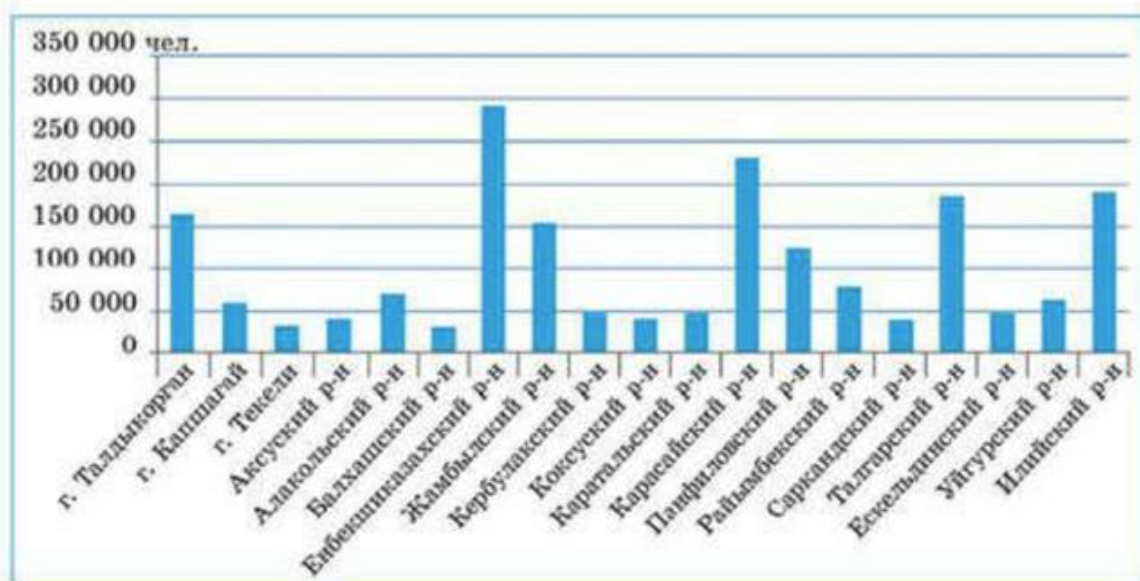


Рис. 4. Численность населения в Алматинской области

Рисунок 4

- A) перепись населения
- B) статистика
- C) интервью
- D) прогнозирование

14. Используя картограмму на рисунке 5, определите количество голов лошадей в Кызылординской области.



Рисунок 5. Картограмма количества голов лошадей в Казахстане

- A) 40 тысяч
- B) 60 тысяч
- C) 80 тысяч
- D) 120 тысяч

15. Какой из следующих источников информации используется для планирования туристических поездок в труднопроходимые районы?

- A) Географические описания
- B) Космические снимки
- C) Прогнозы погоды
- D) Подробные топографические карты

Картография и географические базы данных

- Тематические карты и элементы их дополнительной характеристики;
- Чтение тематических карт. Тематическая географическая номенклатура;
- Приемы показа на карте географических объектов, явлений и процессов;
- Роль информационно-коммуникационных технологий в составлении географических баз данных

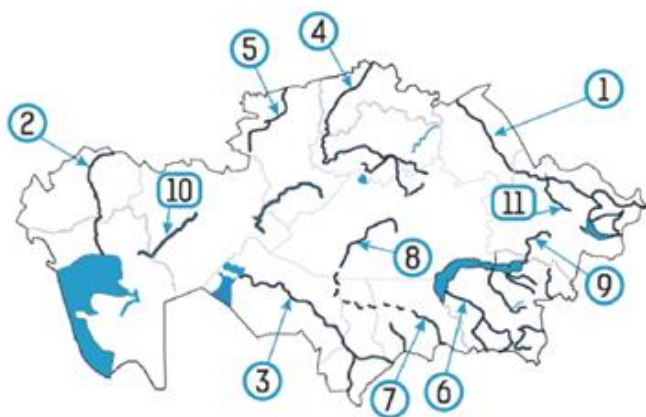
1. Определите разницу между картой и картосхемой.

- A) непредставление условных знаков
- B) отсутствие географической сетки
- C) присвоение наименований объектам
- D) наличие математической основы

2. Определите кривую, соединяющую точки одинаковой высоты.

- A) горизонтали
- B) линия бергштриха
- C) абсолютная высота
- D) относительная высота

3. Укажите цифру, обозначающую реку, начинающуюся с горы Нияз.



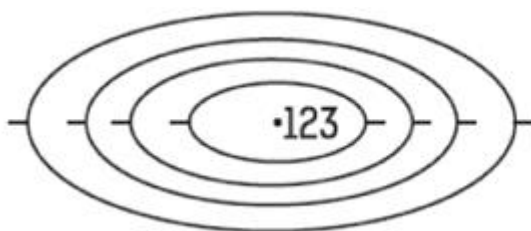
- A) 7
- B) 10
- C) 2
- D) 4

4. Укажите цифру, на которую обозначен регион, где производятся тепловозы и электровозы



- A) 6
- B) 2
- C) 10
- D) 9

5. Найдите разницу между самой высокой точкой холма и ближайшей горизонталью, если горизонтали проводятся через каждые 10 м.



- A) 3 м
- B) 13 м
- C) 10 м
- D) 33 м

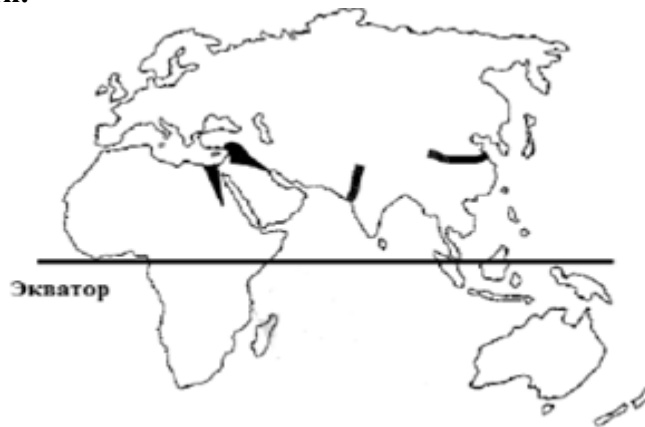
6. На карте ниже показаны пять разных линий с цифрами.



Укажите, номер линии имеет большее разнообразие типов климата, чем другие.

- A) V
- B) II
- C) III
- D) IV

7. На карте ниже обозначены основные места, где были основаны первые поселения и центры цивилизации.



Укажите общую черту этих мест.

- A) Расположение на берегу океана
- B) Наличие богатого лесного покрова
- C) Больше жары и дождей
- D) Наличие подходящих сельскохозяйственных земель и источников воды

8. В какую группу карт входит карта народов?

- A) Общегеографические
- B) Политико-экономический
- C) Физические
- D) Исторический

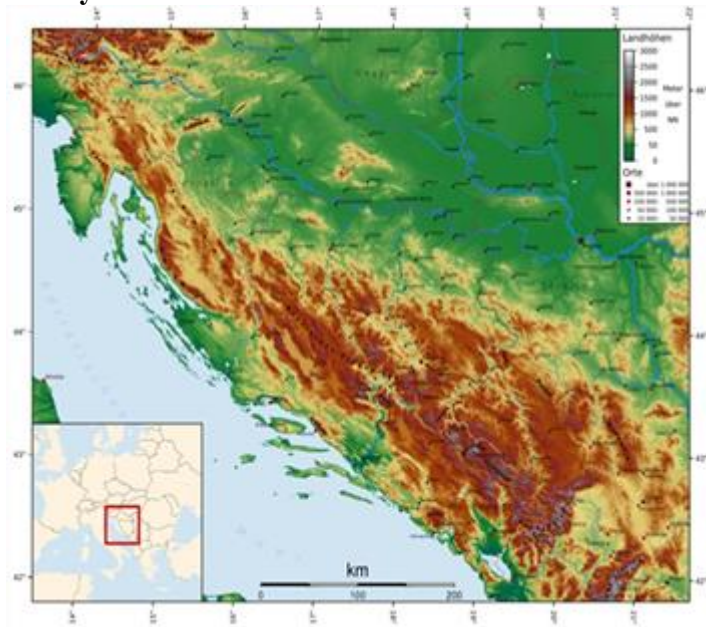
9. Определите условное обозначение хвойного леса и тропинки

<p>A)</p>	<p>B)</p>	<p>C)</p>	<p>D)</p>
-----------	-----------	-----------	-----------

10. Для обозначения каких объектов используются линейные знаки?

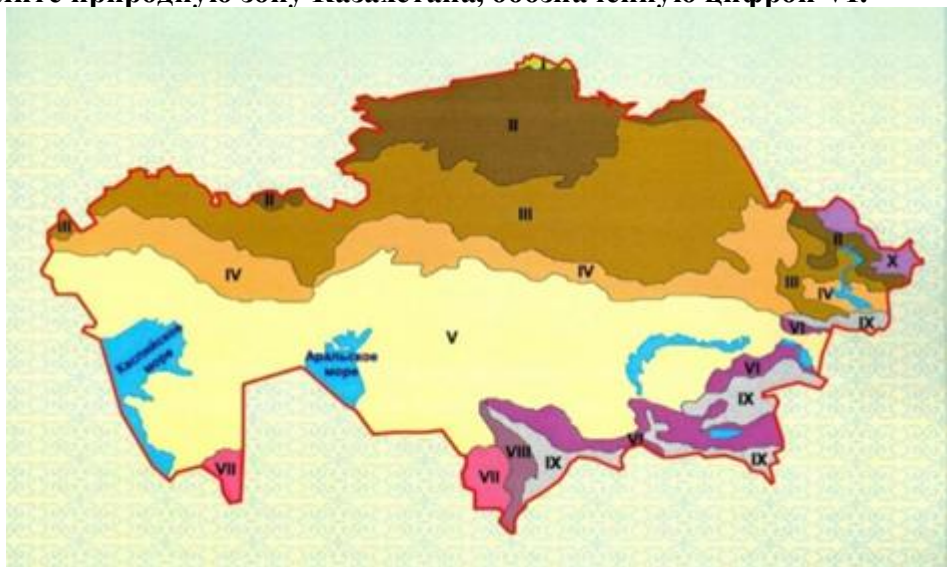
- A) дороги, реки
- B) городов, населенных пунктов
- C) ресурсов, производства
- D) климатических зон

11. На рисунке показана известная страна. Укажите эту страну и определите, какой тип побережья ей соответствует.



- A) Испания, риас
- B) Норвегия, фьорд
- C) Хорватия, далмация
- D) Швеция, шхер

12. Определите природную зону Казахстана, обозначенную цифрой VI.



- A) Субтропическая пустыня
- B) Среднеазиатская горная пустыня
- C) Горно-пустынно-степной
- D) Средне Азиатское нагорье

13. Табиғат зоналары» картасы мазмұнына қарай жіктелуін анықтаңыз.

- A) Тақырыптық
- B) Проекциялық
- C) Жалпыгеографиялық
- D) Топографиялық

14. Определите связь ГИС с наукой об экологии.

- A) мониторинг качества воды реки
- B) использование в навигации судов
- C) картирование распространения болезней
- D) проведение разведочных работ полезных ископаемых

15. Укажите вариант, содержащий географическую базу данных.

- A) Пространственные данные и атрибутивные данные
- B) Векторные данные и растровые данные
- C) Метаданные и геоинформационные системы
- D) Метаданные и атрибутивные данные

Физическая география (Литосфера)

- *Вещественный состав литосферы;*
- *Тектоническое строение Земли;*
- *Литосферные катаклизмы;*
- *Крупные орографические объекты на материках и в океанах*

1. Определите внутреннюю структуру земли.

- A) Лава, мантия, ядро
- B) Атмосфера, мантия, ядро
- C) Магма, мантия, ядро
- D) Земная кора, мантия, ядро

2. Укажите целостную возвышенную часть, которая образовалась в процессе складчатости горы.

- A) антиклиналь
- B) синклиналь
- C) моноклиналиный
- D) геосинклиналь

3. В каком регионе земная кора имеет наибольшую толщину.

- A) в горах
- B) в низинах
- C) на холмах
- D) на равнинах

4. Укажите процесс, при котором происходит погружение одних блоков земной коры под другие.

- A) рифтинг
- B) спрединг
- C) коллизия
- D) субдукция

5. Расположите геологические эры по порядку.

- A) Архей, протерозой, палеозой, мезозой, кайнозой

- В) Архей, протерозой, кайнозой, мезозой, палеозой
- С) Архей, палеозой, протерозой, мезозой, кайнозой
- Д) Архей, протерозой, мезозой, палеозой, кайнозой

6. Определите процесс, в результате которого образовался Южно-Атлантический хребет

- А) Частые землетрясения
- В) Активная вулканическая деятельность
- С) Расхождение литосферных плит
- Д) Столкновение двух литосферных плит

7. Определите, какой тип литосферного катаклизма показан на карте.



- А) Сель
- В) Мерзлота
- С) Наводнение
- Д) Извержение вулкана

8. Укажите два самых больших планетарных рельефа.

- А) Пустыни и леса
- В) Горы и долины
- С) Озёра и реки
- Д) Океанические впадины и материковые выступы

Физическая география (Атмосфера)

- *Погода и метеорологические элементы. Давление;*
- *Климатические пояса*

1. Определите, как называется область низкого давления показанная на рисунке 1.

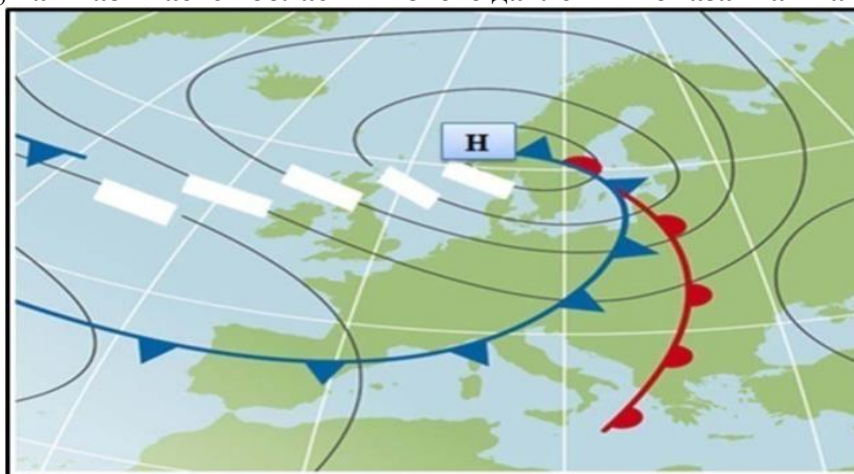


Рисунок 1

- А) Циклон
- В) Антициклон

- C) Влажность
- D) Атмосферный фронт

2. Атмосферное явление, возникающее в результате перемещения воздушных масс из областей высокого давления в области низкого давления.

- A) Ветер
- B) Облачность
- C) Влажность
- D) Осадки

3. Определите метеорологический показатель, который выражает отношение фактического количества водяного пара в воздухе к максимальному количеству водяного пара, которое воздух может удерживать при данной температуре.

- A) Облачность
- B) Температура воздуха
- C) Относительная влажность
- D) Атмосферное давление

4. На сколько миллиметров ртутного столба уменьшится атмосферное давление при подъеме на высоту 100 метров?

- A) 1 мм рт. ст.
- B) 5 мм рт. ст.
- C) 10 мм рт. ст.
- D) 20 мм рт. ст.

5. Укажите фактор, не влияющий на атмосферное давление.

- A) Высота над уровнем моря
- B) Температура воздуха
- C) Влажность воздуха
- D) Цвет почвы

6. Какой климатический пояс характеризуется холодным климатом с низкой температурой и небольшим количеством осадков.

- A) Тропический
- B) Умеренный
- C) Экваториальный
- D) Арктический

7. Определите климатическую зону со среднегодовой температурой 24-28 С, с осадками более 3000 мм в год.

- A) умеренный пояс
- B) экваториальный пояс
- C) субтропический пояс
- D) субарктический пояс

Физическая география (Гидросфера)

- Проблемы Мирового океана;
- Гидрологический режим рек;
- Виды внутренних вод в Казахстане. Ледники. Подземные воды

1. Укажите наиболее опасный вид загрязнения океана на современном этапе.

- A) физическое
- B) химическое
- C) биологическое
- D) радиационное

2. Укажите основные последствия пластиковых отходов в Мировом океане.

- A) Охлаждение океанских вод
- B) Улучшение рыбного хозяйства
- C) Изменение естественного цвета морей
- D) Негативное воздействие на морскую жизнь и экосистемы

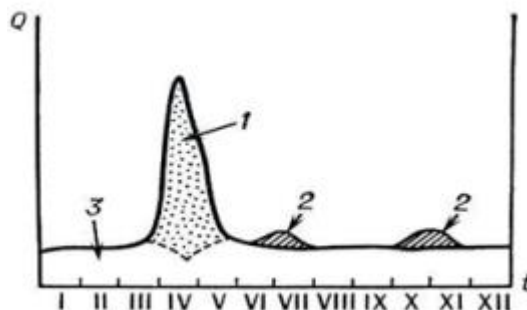
3. Укажите один из факторов, который представляет наибольшую угрозу для мирового океана.

- A) Увеличение числа туристических судов
- B) Изменение уровня моря
- C) Рост численности морских млекопитающих
- D) Сокращение количества коралловых рифов

4. Укажите цель использования энергетических ресурсов океанской воды.

- A) Судоходный канал
- B) Глубоководный кабель
- C) Нефтедобывающая платформа
- D) Приливная электростанция

5. Посмотрите на гидрограф реки, укажите число, в котором показано половодье реки.



- A) 3
- B) 1
- C) 2
- D) 4

6. Определите график, показывающий изменение объема речной воды.

- A) гидрограф
- B) гистограмма
- C) картограмма
- D) линейный график

7. Рассмотрите рисунок. Определите тип питания реки Иртыш

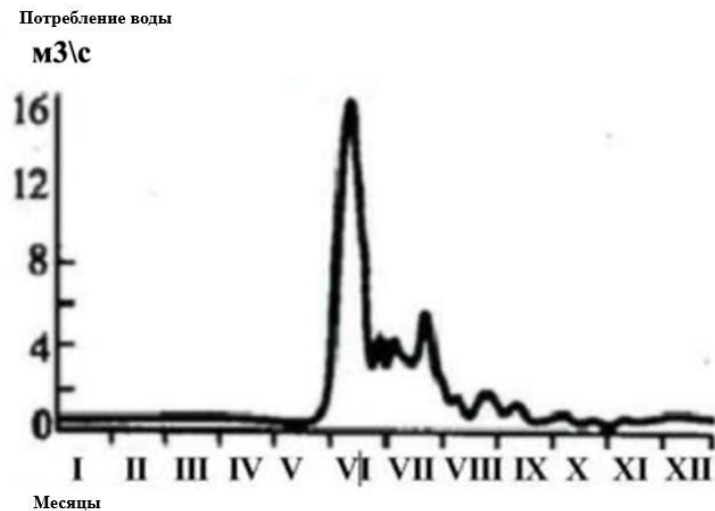


Рисунок 1 - гидрограф реки Иртыш

- A) ледники, снег, смешанные
- B) дождь, подземная вода
- C) ледниковая, подземная вода
- D) снег, ледник

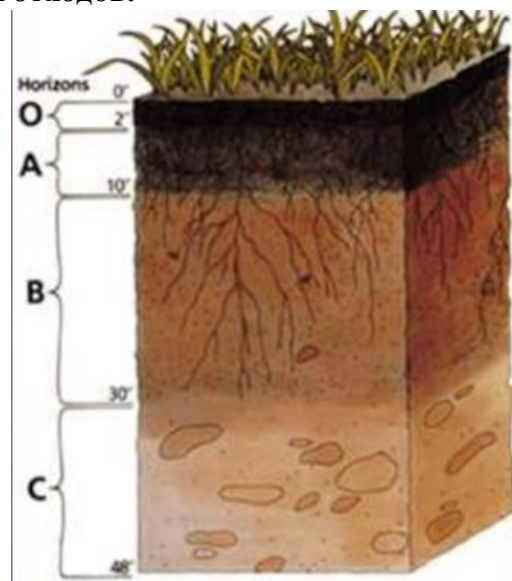
8. Укажите вариант, в котором, верно, указаны внутренние воды Казахстана.

- A) море, река, озеро
- B) ледники, болота, озеро
- C) река, болото, подземные воды
- D) река, озеро, подземные воды, ледники

Физическая география (Биосфера)

- Типы почв в Казахстане. Состав и структура почв;
- Формирование природно-территориальных комплексов

1. Рассмотрите рисунок и определите слой почвы, образовавшийся в результате разложения органических отходов.



- A) O
- B) A
- C) C
- D) B

2. Укажите ученого, который предложил первую научную классификацию почв.

- A) П.П. Петров
- B) И.И. Иванов
- C) С.С. Сидоров
- D) В.В. Докучаев

3. Укажите процесс образования почвы.

- A) Процесс выделения газов в почвенной толще
- B) Процесс осадочного образования в почвенной толще
- C) Процесс образования камней в почвенной толще
- D) Процесс превращения и передвижения веществ и энергии в почвенной толще

4. Равнина, покрывающая территорию темно-коричневых почв Павлодарской области

- A) Тобол – Убаган
- B) Иртыш – Кулундинская
- C) Есиль – Иртышская степь
- D) Убаган - лесостепь Есиля

5. Определите долю черноземов на территории Казахстана.

- A) 34%
- B) 9,5%
- C) 25,5%
- D) 90,6%

6. Что означает целостность географической оболочки?

- A) Компоненты природного комплекса имеют разные цели
- B) Компоненты природного комплекса не связаны друг с другом
- C) Компоненты природного комплекса взаимодействуют случайно
- D) Все компоненты природного комплекса тесно взаимосвязаны друг с другом

7. В природно-территориальном комплексе компоненты географической оболочки отличаются по:

- A) размеру и форме
- B) цветовым характеристикам
- C) степени взаимосвязи друг с другом
- D) физическому состоянию (твердое, жидкое, газообразное)

Экономическая география

- *Классификация природных ресурсов. Закономерности распространения;*
- *Социальная инфраструктура;*
- *Отрасли мирового хозяйства. Важность отраслей;*
- *Виды международных экономических отношений. Показатели развития мирового хозяйства*

1. Определите название группы природных ресурсов, обозначенной на схеме буквой «А».



- A) исчерпаемые
- B) неисчерпаемые
- C) возобновляемые
- D) невозобновляемые

2. Отметьте показатели оценки природно-ресурсного потенциала.

- A) Минеральное сырье, рельеф, водные ресурсы
- B) Количество, состав, качество
- C) Растительность, лесные ресурсы
- D) Животный мир, рыбные ресурсы

3. Укажите специализированную отрасль хозяйства Центрально-Казахстанского экономического района.

- A) ТЭС и черная металлургия
- B) ГЭС и цветная металлургия
- C) ТЭС и легкая промышленность
- D) ГЭС и пищевая промышленность

4. Укажите функции социальной инфраструктуры.

- A) Занятость, ВВП, прибыль
- B) Человеческий капитал, качество, цена
- C) Промышленные, социальные, экономические
- D) Удовлетворение спроса, прибыль, ассортимент

5. Выберите вариант, который соответствует следующему описанию: обеспечение нормальных условий жизни населения, подготовка специалистов, сохранение здоровья и организация правильного отдыха.

- A) транспортная инфраструктура
- B) производственная инфраструктура
- C) социальная инфраструктура
- D) экономическая инфраструктура

6. Какой фактор был учтен в первую очередь при районировании территории Казахстана на 5 экономических районов в XX веке?

- A) уровень развития района
- B) национальный состав населения
- C) географическое расположение
- D) уровень развития инфраструктуры

7. Укажите хозяйственный сектор, входящий в авангардную тройку.

- A) Строительство
- B) Машиностроение
- C) Транспорт и связь
- D) Пищевая промышленность

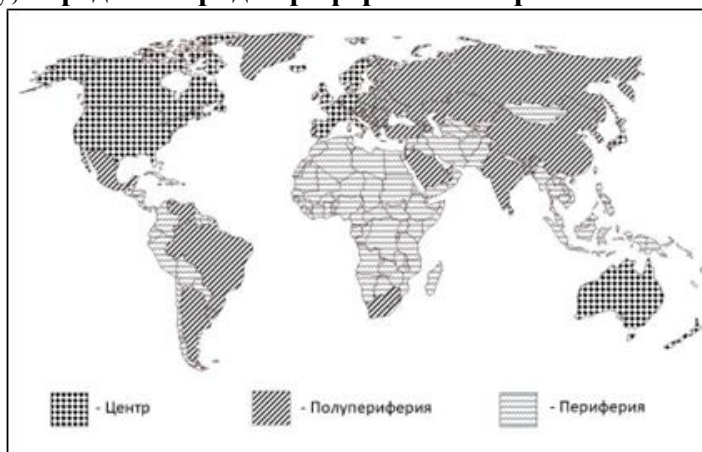
8. Комплекс, приносящий в страну основной источник дохода, т.е. 3/4 экспортной выручки.

- A) Топливо- энергетический
- B) Пищевая и легкая промышленность
- C) Горное дело, строительные материалы
- D) Машиностроение и химическая промышленность

9. Определите современный фактор размещения хозяйства.

- A) транспорт
- B) наука
- C) потребитель
- D) трудовые ресурсы

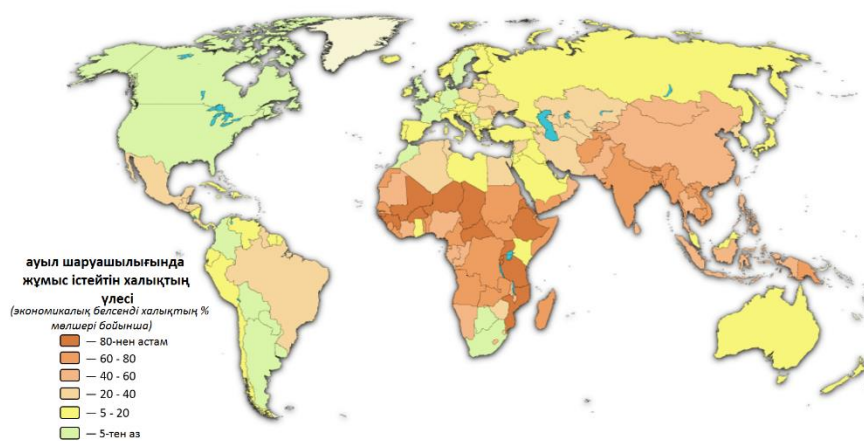
10. Используя карту, определите ряд периферийных стран.



Карта трехполюсной модели мировой экономики по И. Валлерстайну

- A) Мадагаскар, Индонезия
- B) Аргентина, Мексика
- C) Турция, Чили
- D) США, Италия

11. На основе карты определите ряд аграрных стран, где более 80% населения работает в сельском хозяйстве.



- A) Мали, Нигер
- B) США, Канада
- C) Франция, Италия
- D) Индия, Китай

12. Определите индикатор, учитываемый в индексе человеческого развития (ИЧР)

- A) механический прирост населения в стране
- B) возрастной и половой состав населения
- C) валовой внутренний продукт страны за текущий год
- D) валовой внутренний продукт страны на душу населения

13. Укажите год основания, штаб-квартиры ВТО.

- A) 1.01.1995г., Женева, Швейцария
- B) 27.12.1945г., Вашингтон, США
- C) 14.09.1960г., Вена, Австрия
- D) 30.09.1961г., Париж, Франция

14. Сколько компонентов включает индекс человеческого развития (ИЧР)?

- A) 2
- B) 3
- C) 4
- D) 5

15. Какой из следующих компонентов входит в расчет индекса человеческого развития (ИЧР)?

- A) Уровень инфляции
- B) Количество населения
- C) Уровень налогообложения
- D) Ожидаемая продолжительность жизни

Социальная география

- Количественный и качественный состав трудовых ресурсов. Демографическая ситуация и демографическая политика в Казахстане;
- Миграция населения. Миграционная политика

1. Какая часть населения Казахстана относится к категории младше трудоспособного возраста?

- A) Младше 18 лет
- B) Младше 14 лет
- C) Младше 16 лет
- D) Младше 20 лет

2. Укажите регионы Казахстана с низкой плотностью населения.

- A) Северный, Западный
- B) Южный, Восточный
- C) Северный, Южный
- D) Центральный, Восточный

3. Какая категория населения Казахстана включает людей старше трудоспособного возраста?

- A) работающие пенсионеры
- B) дети
- C) инвалиды
- D) студенты

4. Укажите регионы, где наблюдается высокая степень урбанизации.

- A) Актау, Павлодар
- B) Павлодар, Кызылорда
- C) Актобе, Восточный Казахстан
- D) Талдыкорган, Кызылорда

5. Укажите возраст выхода на пенсию для женщин по данным на 2024 год.

- A) 63
- B) 62
- C) 58
- D) 61

6. В Жамбылской области уровень рождаемости составляет 27%, уровень смертности — 8%. Определите естественный прирост населения

- A) 35 %
- B) 19%
- C) -19%
- D) 3 %

7. Какую часть света можно назвать крупнейшим экспортером рабочей силы?

- A) Африку
- B) Азию
- C) Европу
- D) Южную Америку

8. Укажите возможные последствия демографического взрыва.

- A) Неиспользование земельных ресурсов
- B) Недостаток трудовых ресурсов
- C) Старение населения
- D) Увеличение бедности

9. Укажите крупнейший миграционный коридор в мире.

- A) Мексика-США

- B) Казахстан-Россия
- C) США-Канада
- D) Россия-Украина

10. Миграция салдарынан білім деңгейі жоғары азаматтардың санының артуы қандай өзгеріске алып келеді.

- A) сапалық өзгеріс
- B) сандық өзгеріс
- C) босқындардың көбеюі
- D) белгілі бір ұлттың азаюы

11. В каком случае можно говорить о ложной урбанизации?

- A) Если общая доля сельского населения превышает общую долю городского
- B) Если доля экономически активного сельского населения превышает долю экономически активного городского населения
- C) Если общая доля городского населения намного превышает долю экономически активного городского населения
- D) Нежелание коренных жителей городов работать

12. Какую из причин можно назвать главной причиной миграции в современном мире?

- A) Религиозную
- B) Романтическую
- C) Экономическую
- D) Политическую

13. Укажите материк, на который происходила массовая миграция в эпоху Великих географических открытий.

- A) Африка
- B) Евразия
- C) Австралия
- D) Южная Америка

14. Укажите города, которые относятся к категории "Супергорода".

- A) Сеул и Йоханнесбург
- B) Мадрид и Стокгольм
- C) Джакарта и Мельбурн
- D) Сан-Паулу и Шанхай

15. Укажите современные страны, которые принимают наибольшее количество трудовых мигрантов.

- A) Алжир и Ямайка
- B) США и Германия
- C) Египет и Швейцария
- D) Великобритания и Мексика

Страноведение с основами политической географии

- *Политическая типология стран;*
- *Экономико-географическое положение стран мира*

1. Укажите количество государств на современной политической карте мира.

- A) Более 230
- B) Более 200

- C) Более 180
- D) Более 190

2. Укажите количественные изменения на политической карте.

- A) Изменение столицы страны
- B) Распад государств
- C) Смена формы правления
- D) Присоединение страны к международной организации

3. Определите государство в монархической форме правления Азии.

- A) Бахрейн
- B) Ватикан
- C) Марокко
- D) Лесото

4. Определите вариант, характеризующий унитарное государство.

- A) ассоциация
- B) единая страна
- C) временный юридический Союз
- D) союз государств

5. Укажите описательный вариант термина Метрополия.

- A) зависимое государство
- B) государство со стадом
- C) государство, имеющее собственность
- D) государство, статус которого не определен

6. Определите государства, граничащие вдоль астрономической границы.



- A) Казакстан-Китай
- B) Иран-Пакистан
- C) США-Канада
- D) Чад-Ливия

7. Найдите варианты, в которых верно указаны страны, граничащие друг с другом

- A) Словакия, Литва, Польша

- В) Италия, Австрия, Венгрия
- С) Испания, Франция, Швейцария
- Д) Польша, Болгария, Германия

8. Определить социальный фактор, положительно влияющий на геополитику государства.

- А) приверженность страны политике толерантности
- В) высокий транзитный потенциал страны
- С) наличие в стране больших запасов полезных ископаемых
- Д) низкая численность и плотность населения в стране

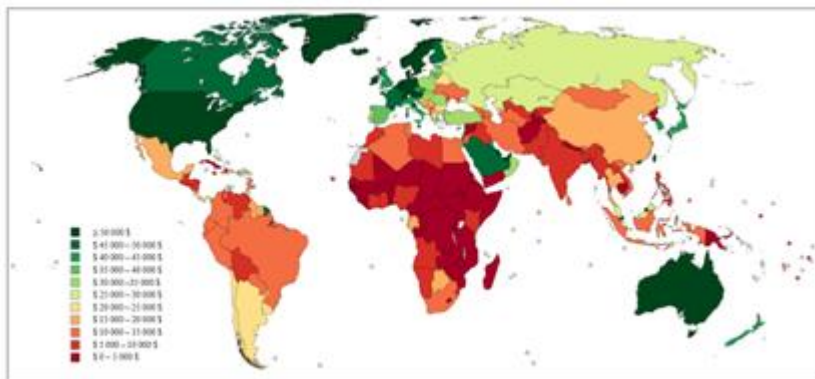
9. Определите правильный вариант, характерную для новых индустриальных стран.

- А) вывод тропических культур на мировой рынок
- В) основным источником дохода является экспорт нефтепродуктов
- С) расположение на перекрестке важных транспортных дорог
- Д) быть ведущей отраслью обрабатывающей промышленности

10. «Выберите варианты в которой все три страны относятся к «великим горнодобывающим державам»

- А) Куба, Болгария, Индия
- В) Китай, США, Япония
- С) США, Россия, ОАЭ
- Д) Китай, Австралия, ЮАР

11. Определите Азиатское государство с ВВП на душу населения выше 45 000 долларов.



Показатель ВВП стран мира на душу населения

- А) Турция
- В) Индия
- С) Индонезия
- Д) Саудовская Аравия

12. Какое из следующих утверждений наиболее точно описывает экономико-географическое положение страны?

- А) Страна, расположенная на важном транспортном узле, имеет стратегическое значение для глобальных торговых маршрутов.
- В) Страна, не имеющая доступа к морю, всегда имеет преимущество в международной торговле по сравнению с прибрежными государствами.
- С) Страна с большим количеством природных ресурсов обязательно обладает высокоразвитыми отраслями обрабатывающей промышленности.
- Д) Страна, находящаяся в тропических зонах, обычно имеет низкий уровень экономического развития из-за неблагоприятного климата.

13. Какие из указанных стран являются одновременно гигантами по площади и по населению

- A) Россия
- B) Канада
- C) Пакистан
- D) Аргентина

14. Определить классификацию выделенных стран по общему уровню развития



- A) постиндустриальные страны
- B) страны-арендодатели
- C) новые индустриальные страны
- D) страны-экспортеры нефти

15. Укажите государство которое имеет выход к персидскому заливу.

- A) Сирия
- B) Ирак
- C) Пакистан
- D) Саудовская Аравия

ОТВЕТЫ

Раздел/ № задания	1	2	3	4	5	6	7	8	9	10	11	12	13	14	15
Методы географических исследований	B	D	B	D	A	D	A	D	B	A	B	D	A	C	D
Картография и географические базы данных	B	A	D	C	A	B	D	B	B	A	C	C	A	A	A
Физическая география (Литосфера)	D	A	A	D	A	C	D	D							
Физическая география (Атмосфера)	A	A	C	C	D	D	B								
Физическая география (Гидросфера)	B	D	D	D	B	A	A	D							
Физическая география (Биосфера)	A	D	D	B	B	D	D								
Экономическая география	B	B	A	C	C	C	B	A	B	A	A	D	A	B	D
Социальная география	C	A	A	C	D	B	B	D	A	A	C	C	D	D	B
Страноведение с основами: политической географии	A	B	A	B	C	C	A	A	D	D	D	A	A	C	D